

**ΔΙΑΓΩΝΙΣΜΑ 4- ΦΥΣΙΚΗ ΠΡΟΣΑΝΑΤΟΛΙΣΜΟΥ –(2016-17)**  
**ΚΕΦΑΛΑΙΟ 3 ΡΕΥΣΤΑ**  
**ΕΚΦΩΝΗΣΕΙΣ**

**ΘΕΜΑ Α**

Στις προτάσεις **A1-A4** να γράψετε στο τετράδιό σας τον αριθμό της πρότασης και δίπλα το γράμμα που αντιστοιχεί στη φράση, η οποία τη συμπληρώνει σωστά.

**A1.** Η παροχή μίας βρύσης είναι  $\Pi = 0,004 \text{ m}^3/\text{s}$ . Ο όγκος του νερού που ρέει από τη βρύση σε χρονικό διάστημα  $\Delta t = 1 \text{ min}$  είναι

- α.**  $V = 0,24 \text{ cm}^3$ .                      **β.**  $V = 0,24 \text{ m}^3$ .                      **γ.**  $V = 2.400 \text{ cm}^3$ .                      **δ.**  $V = 0,024 \text{ m}^3$ .

**(Μονάδες 5)**

**A2.** Σύμφωνα με την αρχή του Pascal, η πρόσθετη πίεση που δημιουργεί ένα εξωτερικό αίτιο σε κάποιο σημείο του υγρού μεταφέρεται αναλλοίωτη

- α.** μόνο στα σημεία του υγρού που βρίσκονται πλησίον του σημείου στο οποίο επέδρασε το εξωτερικό αίτιο.  
**β.** σε όλα τα σημεία του υγρού.  
**γ.** μόνο στα σημεία του υγρού που βρίσκονται στην ίδια διεύθυνση με το εξωτερικό αίτιο.  
**δ.** μόνο στα σημεία του υγρού που βρίσκονται σε διεύθυνση κάθετη με την διεύθυνση του εξωτερικού αιτίου.

**(Μονάδες 5)**

**A.3** Η εξίσωση της συνέχειας είναι συνέπεια της αρχής διατήρησης της

- α.** ταχύτητας.                      **β.** υδροστατικής πίεσης.                      **γ.** ύλης.                      **δ.** ενέργειας.

**(Μονάδες 5)**

**A4.** Το ιξώδες ενός πραγματικού ρευστού

- α.** εκφράζει την εσωτερική τριβή μεταξύ των μορίων του ρευστού.  
**β.** είναι σταθερό και ανεξάρτητο της ταχύτητας ροής του ρευστού,  
**γ.** ελαττώνεται, όταν ελαττώνεται το πάχος του ρευστού,  
**δ.** αυξάνεται, όταν αυξάνεται η θερμοκρασία του ρευστού.

**(Μονάδες 5)**

**A5.** Να γράψετε στο τετράδιό σας το γράμμα κάθε πρότασης και δίπλα σε κάθε γράμμα τη λέξη **Σωστό**, για τη σωστή πρόταση, και τη λέξη **Λάθος**, για τη λανθασμένη.

- α.** Τα Νευτώνεια υγρά είναι ιδανικά ρευστά.  
**β.** Εκεί που πυκνώνουν οι ρευματικές γραμμές η ταχύτητα της ροής αυξάνεται.  
**γ.** Η παροχή είναι μονόμετρο μέγεθος ενώ η πίεση διανυσματικό.

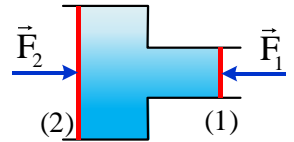
δ. Η εξίσωση του Bernoulli είναι συνέπεια της αρχής διατήρησης της μάζας.

ε. Η ταχύτητα κάθε μορίου ενός ρευστού είναι εφαπτομένη της ρευματικής γραμμής.

(Μονάδες 5)

### ΘΕΜΑ Β

**B1.** Το δοχείο του σχήματος είναι γεμάτο με ιδανικό υγρό και κλείνεται ερμητικά με δύο έμβολα (1) και (2) που τα εμβαδά τους  $A_1$  και  $A_2$  αντίστοιχα συνδέονται με τη σχέση  $A_2 = 4A_1$ . Κάθετα στην επιφάνεια του εμβόλου (1) ασκούμε δύναμη μέτρου  $F_1$ . Για να παραμείνουν τα έμβολα ακίνητα στις αρχικές τους θέσεις, πρέπει ταυτόχρονα στο έμβολο (2) να ασκήσουμε κάθετη δύναμη που έχει μέτρο  $F_2$  για το οποίο ισχύει:



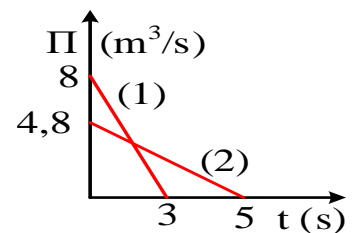
- α.  $F_2 = 4F_1$ ,      β.  $F_2 = F_1$ ,      γ.  $F_2 = \frac{F_1}{4}$ .

Να επιλέξετε τη σωστή απάντηση.

Να δικαιολογήσετε την επιλογή σας.

(Μονάδες 6)

**B.2** Στο διπλανό διάγραμμα βλέπουμε τις γραφικές παραστάσεις των παροχών σε σχέση με το χρόνο κατά το άδειασμα δύο δοχείων (1) και (2) από τις βρύσες τους. Τα δύο δοχεία αρχικά ήταν εντελώς γεμάτα με νερό, που το θεωρούμε ιδανικό ρευστό. Για τις χωρητικότητες των δύο δοχείων ισχύει



- α.  $V_1 > V_2$       β.  $V_1 = V_2$       γ.  $V_1 < V_2$

Να επιλέξετε τη σωστή απάντηση.

Να δικαιολογήσετε την επιλογή σας.

(Μονάδες 6)

**B.3.** Η συνολική πίεση στον πυθμένα ενός ανοικτού δοχείου γεμάτου με υγρό πυκνότητας  $\rho_1$  είναι  $p_1 = 1,2 p_{ατμ}$ . Αντικαθιστούμε το αρχικό υγρό με άλλο ίσου όγκου, πυκνότητας  $\rho_2$  για την οποία ισχύει  $\rho_2 = 2\rho_1$ . Η συνολική πίεση  $p_2$  που επικρατεί στον πυθμένα του δοχείου είναι

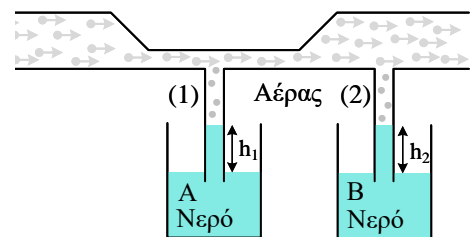
- α.  $p_2 = 1,4 p_{ατμ}$       β.  $p_2 = 2,4 p_{ατμ}$       γ.  $p_2 = 2,8 p_{ατμ}$ .

Να επιλέξετε τη σωστή απάντηση.

Να δικαιολογήσετε την επιλογή σας.

(Μονάδες 6)

**B.4** Στον διπλανό οριζόντιο σωλήνα ρέει αέρας που τον θεωρούμε ιδανικό ρευστό. Οι σωλήνες A, B είναι βυθισμένοι μέσα σε νερό όπως φαίνεται στο σχήμα. Για τη στάθμη του νερού στους σωλήνες A, B ισχύει



- α.  $h_1 = h_2$       β.  $h_1 > h_2$       γ.  $h_1 < h_2$

Να επιλέξετε τη σωστή απάντηση.

Να δικαιολογήσετε την επιλογή σας.

(Μονάδες 7)

## ΘΕΜΑ Γ

Το ανοιχτό δοχείο του διπλανού σχήματος περιέχει νερό και λάδι με πυκνότητες  $\rho_v = 1.000 \text{ kg/m}^3$  και  $\rho_\lambda = 800 \text{ kg/m}^3$  αντίστοιχα. Το στρώμα του λαδιού έχει πάχος  $d_1 = 0,50 \text{ m}$ , ενώ του νερού έχει πάχος  $d_2 = 1,4 \text{ m}$ . Στη βάση του πυθμένα και στην πλευρική του επιφάνεια υπάρχει οπή εμβαδού  $2 \text{ cm}^2$  που είναι κλεισμένη με τάπα.

**Γ1.** Να βρείτε πόση είναι η συνολική πίεση στη διαχωριστική επιφάνεια λαδιού-νερού.

(Μονάδες 6)

**Γ2.** Να βρείτε τη δύναμη (μέτρο και κατεύθυνση) που ασκείται από τα υγρά στην τάπα, που βρίσκεται στον πυθμένα του δοχείου.

(Μονάδες 6)

Αφαιρούμε την τάπα.

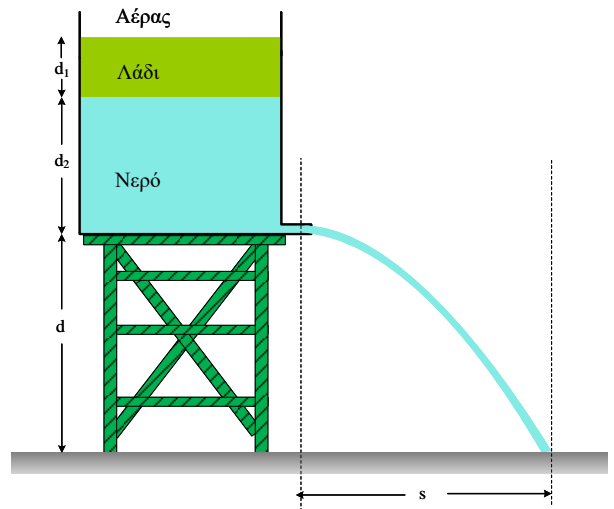
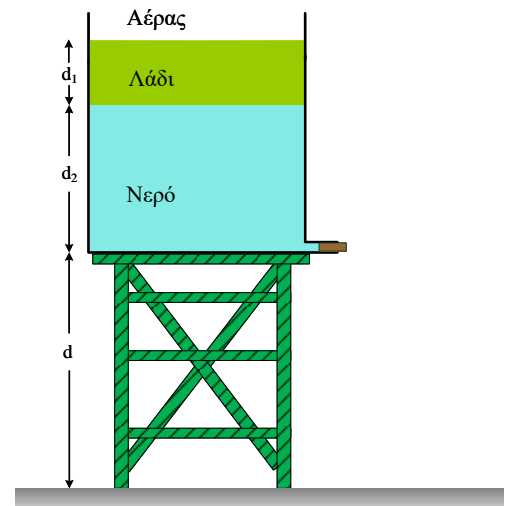
**Γ3.** Να βρείτε την ταχύτητα εκροής του νερού από την οπή αμέσως μετά την αφαίρεση της τάπας.

(Μονάδες 7)

**Γ4.** Να βρείτε το ύψος  $d$  στο οποίο βρίσκεται η βάση του δοχείου, αν γνωρίζουμε ότι η φλέβα νερού, που σχηματίζεται αμέσως μετά την αφαίρεση της τάπας, συναντά το δάπεδο σε οριζόντια απόσταση  $3 \text{ m}$  από την οπή.

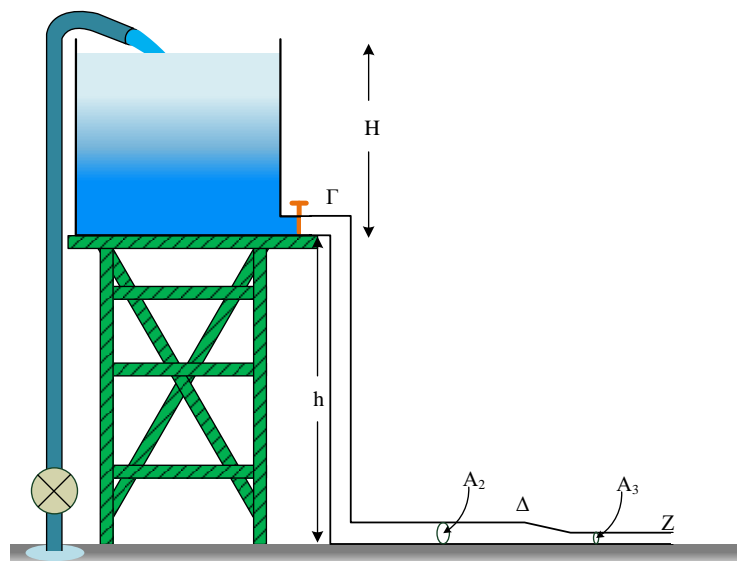
(Μονάδες 6)

Δίνονται:  $\rho_{\text{ατμ}} = 10^5 \text{ N/m}^2$ ,  $g = 10 \text{ m/s}^2$ .



## ΘΕΜΑ Δ

Στο διπλανό σχήμα δείχνεται μία δεξαμενή διατομής  $A = 5 \text{ m}^2$  την οποία γεμίζουμε με νερό μέσω αντλίας από πηγάδι του οποίου η επιφάνεια του νερού βρίσκεται σταθερά σε βάθος  $H_1 = 2,8 \text{ m}$  κάτω από το οριζόντιο έδαφος. Η δεξαμενή έχει ύψος  $H = 1,8 \text{ m}$  και βρίσκεται σε βάση ύψους  $h = 3,2 \text{ m}$  από το έδαφος. Η παροχή της αντλίας είναι  $\Pi_1 = 2 \cdot 10^{-3} \text{ m}^3/\text{s}$  και το νερό εκρέει στη δεξαμενή με ταχύτητα  $v = 2 \text{ m/s}$  (βλέπε σχήμα). Η αντλία με κατάλληλο μηχανισμό έναρξης – διακοπής κρατά διαρκώς γεμάτη τη δεξαμενή. Στο σημείο  $\Gamma$ , δίπλα στη βάση της δεξαμενής, υπάρχει οπή με διατομή  $A_2 = 4 \text{ cm}^2$ , που συνδέεται με λάστιχο ίδιας διαμέτρου και μετά το σημείο  $\Delta$  καταλήγει σε στενότερο σωλήνα διατομής  $A_3 = 2 \text{ cm}^2$ . Στο σημείο  $\Gamma$  υπάρχει διακόπτης που αρχικά είναι κλειστός.



Να υπολογίσετε:

α. την ισχύ της αντλίας.

β. τον χρόνο που χρειάζεται για να γεμίσει η δεξαμενή.

Ανοίγουμε τον διακόπτη και μετά από λίγο έχουμε μόνιμη και στρωτή ροή μέσα στον σωλήνα. Να βρείτε:

γ. την κινητική ενέργεια ανά μονάδα όγκου στο σημείο Ζ.

δ. την πίεση στο σημείο Γ

Δίνεται για το νερό  $\rho = 10^3 \text{ kg/m}^3$ ,  $g = 10 \text{ m/s}^2$ .

**---- ΕΥΧΟΜΑΣΤΕ ΕΠΙΤΥΧΙΑ ----**

Το διαγώνισμα επιμελήθηκε:

Δουκατζής Βασίλειος - Φυσικός,

Επιστημονική επιμέλεια: Αντώνιος Παλόγος –Φυσικός